


CHÁ DE HUMANAS

SIMULADO UERJ

GRATUITO



O Chá de Humanas acredita que a educação deve ser, antes de tudo, um instrumento de transformação social. Em um país marcado por profundas desigualdades no acesso ao ensino de qualidade, oferecer materiais gratuitos e acessíveis também é uma forma de ampliar oportunidades e democratizar o conhecimento. É com esse objetivo que disponibilizamos este Simulado UERJ Gratuito, pensado especialmente para estudantes que desejam compreender melhor o perfil da banca e aprofundar sua preparação para o vestibular.

Ao longo dos últimos meses, os alunos inscritos no PROJETO UERJ 2027 tiveram acesso a três simulados exclusivos, elaborados com base em uma análise detalhada da estrutura da prova, dos temas mais recorrentes e da chamada “visão de mundo” da banca da UERJ. Este novo material, entretanto, surge como um presente do Chá de Humanas para toda a comunidade de vestibulandos, incluindo aqueles que ainda não fazem parte do projeto.

A prova da UERJ possui características muito específicas. Mais do que exigir memorização, a banca valoriza a capacidade de interpretar fenômenos sociais, históricos, políticos e ambientais de forma crítica e contextualizada. Questões relacionadas à cidadania, democracia, desigualdade social, direitos humanos, transformações do espaço geográfico, meio ambiente, movimentos sociais e relações internacionais aparecem com frequência, quase sempre exigindo do candidato a habilidade de estabelecer relações entre diferentes temas e compreender os impactos das transformações do mundo contemporâneo.

Por isso, este simulado foi construído não apenas para testar conteúdos, mas também para aproximar o estudante da lógica interpretativa da banca. Nosso objetivo é fazer com que você compreenda como os temas são articulados, quais competências são mais cobradas e de que forma a UERJ constrói questões que exigem reflexão, leitura crítica e capacidade de análise.

Esperamos que este material contribua para sua preparação e, acima de tudo, fortaleça sua confiança. Estudar para o vestibular é um processo coletivo, e acreditamos que compartilhar conhecimento é uma das formas mais importantes de construir uma educação mais inclusiva e acessível.

Bom simulado e bons estudos!

Professor Victor Maurício
Professor Gabriel Silva

[Adquira o E-Book com 100 questões autorais aqui](#)

[Adquira o Projeto UERJ 2027 1º EQ aqui](#)

[Consulte o gabarito aqui](#)



Contribua com o Chá

1 – Sistema de reembolso das tarifas de Trump entra em vigor nos EUA; importadores temem falhas



O novo sistema para pedidos de reembolso das tarifas impostas pelo presidente Donald Trump entra em vigor nesta segunda-feira (20.04.2026) para empresários americanos. A estimativa é que as devoluções alcancem até US\$ 166 bilhões (R\$ 824,9 bilhões). Em um processo judicial divulgado na última terça-feira (14), a Alfândega e Proteção de Fronteiras dos EUA (CBP, na sigla em inglês) afirmou que havia concluído o desenvolvimento da fase inicial do sistema de restituição, conhecido como CAPE. O sistema vai consolidar os reembolsos, de modo que os importadores recebam um único pagamento eletrônico — com juros, quando aplicável — em vez de pagamentos separados para cada importação. O lançamento do sistema de reembolso é mais um capítulo de uma longa disputa em torno das tarifas comerciais cobradas no ano passado, parte do esforço do presidente americano para reestruturar as relações comerciais dos EUA com quase todos os países do mundo.

Disponível em g1.globo.com (Acesso em 09.05.2026)

A devolução dos montantes financeiros mencionados na reportagem decorre de uma política que foi baseada na

- (A) autonomia diante dos poderes legislativo e judiciário.
- (B) insubordinação às instituições democráticas nacionais.
- (C) supremacia econômica americana frente a inimigos econômicos.
- (D) finalização das relações diplomáticas com antigos parceiros comerciais.

2 – Iphan recebe pedido de registro da Jurema Sagrada



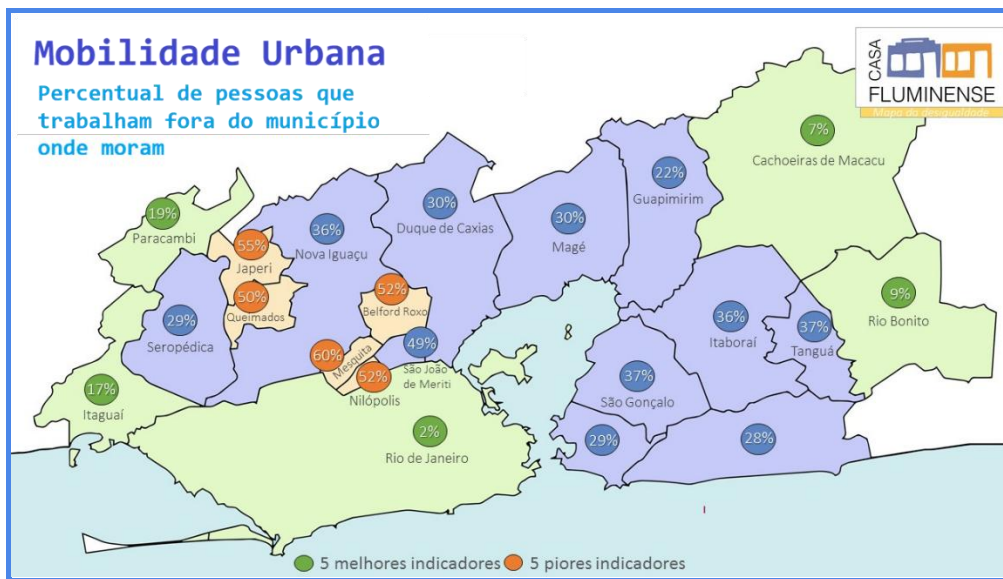
Representantes de lideranças de religiões de matriz afro-indígena da Paraíba entregaram ao Instituto do Patrimônio Histórico e Artístico Nacional (Iphan) o pedido de registro da Jurema Sagrada como Patrimônio Cultural Imaterial do Brasil. A Jurema - também conhecida como Catimbó - é uma tradição marcada por rituais, cantos, conhecimentos e práticas espirituais transmitidos entre gerações, em uma combinação de heranças indígenas e africanas. O registro imaterial é um instrumento legal e administrativo para reconhecer, valorizar e salvaguardar bens culturais imateriais, tais como saberes, práticas e celebrações, que são parte da identidade de um povo e não possuem materialidade física, como um objeto ou construção. Em nível federal, o Iphan é o responsável pelo registro.

“Iphan recebe pedido de registro da Jurema Sagrada”.
Disponível em gov.br/iphphan (Acesso em 09.05.2026)

A iniciativa de reconhecimento da Jurema Sagrada como patrimônio imaterial revela uma tendência marcada pela valorização estatal de

- (A) grupos e culturas historicamente marginalizados.
- (B) expressões simbólicas incorporadas pelo turismo regional.
- (C) práticas ancestrais submetidas a processos de mercantilização.
- (D) rituais religiosos reinterpretados como patrimônio de interesse econômico.

3 – O Mapa da Desigualdade agrega 23 indicadores sobre sete temas-chave da realidade metropolitana do Rio de Janeiro: Mobilidade, Mercado de trabalho, Pobreza & Renda, Educação, Segurança Pública & Cidadã, Saúde e Saneamento Básico. Os dados são atualizados de acordo com a publicação mais recente por fontes oficiais. A visualização na forma de mapas ilustrados mostra os diferentes padrões de vida dos 12 milhões de residentes nos 21 municípios que compõem a Região Metropolitana do Rio de Janeiro (RMRJ). Um dos propósitos deste exercício é promover um olhar metropolitano para questões transversais e entender a situação de cada cidade neste cenário. A seguir, é apresentado um mapa com 1 dos 23 indicadores abordados no estudo.



Disponível em www.ecodebate.com.br (Acesso em 09.05.2026)

A interpretação dos dados especializados no mapa permite inferir que

- (A) a metrópole ainda concentra a maior parcela do setor terciário.
- (B) os municípios da Baixada Fluminense apresentam baixo índice de integração.
- (C) a Zona Norte do Rio de Janeiro é a mais afetada com problemas de circulação.
- (D) as maiores taxas de segregação socioespacial localizam-se na franja metropolitana.

4 – O Ato Institucional nº 5, decretado em 1968, representou o endurecimento do regime político instaurado no Brasil após 1964. Por meio desse instrumento, o governo passou a ter poderes para fechar o Congresso Nacional, intervir nos estados e municípios e suspender direitos políticos de cidadãos. Além disso, foram ampliadas as possibilidades de censura e repressão, sem a necessidade de justificativas públicas. O ato marcou o início do período mais autoritário do regime, caracterizado pela intensificação da repressão e pela limitação extrema das liberdades civis.

SKIDMORE, Thomas. Brasil: de Getúlio a Castelo. Rio de Janeiro: Paz e Terra, 1988.

A medida institucional descrita no texto teve como principal efeito político

- (A) a supressão de limites institucionais ao exercício do poder governamental.
- (B) a reorganização do sistema representativo com manutenção da participação popular.
- (C) a formalização de mecanismos de controle jurídico sobre as ações do poder Executivo.
- (D) o fortalecimento da autonomia dos poderes legislativo e judiciário comandados por militares.

5 – O metal raro e essencial para o seu celular que está por trás de sangrenta guerra na África



É muito provável que dentro do seu celular haja uma pequena quantidade de um metal que começou sua jornada enterrado no subsolo do leste da República Democrática do Congo, onde atualmente está sendo travada uma guerra brutal. É possível, inclusive, que esteja diretamente ligado ao grupo rebelde M23, que foi destaque no noticiário do mundo todo. O tântalo presente no seu dispositivo tem menos da metade do peso de uma ervilha, mas é essencial para a operação eficiente de um smartphone — e de quase todos os outros dispositivos eletrônicos sofisticados. De acordo com a ONU e grupos como o International Crisis Group, Ruanda apoia os milicianos do M23, oferecendo treinamento e armamento sofisticado, além de soldados em campo. "Não há dúvida de que há tropas ruandesas em Goma apoiando o M23", disse o chefe das forças de manutenção da paz da ONU, Jean-Pierre Lacroix. Em abril do ano passado, o M23 tomou Rubaya, uma cidade localizada no coração do setor de coltan do país. A extração de minerais nesta região não está nas mãos de conglomerados multinacionais — milhares de pessoas trabalham nas minas a céu aberto que se estendem pelo território, ou no subsolo, em condições extremamente inseguras e insalubres.

Disponível em bbc.com (Acesso em 14.05.2026)

O conflito entre diferentes grupos na República Democrática do Congo ganha força por conta

- (A) da demanda por recursos estratégicos e do apoio militar de potências externas.
- (B) da fragmentação territorial provocada por fronteiras naturais instáveis.
- (C) da expansão de movimentos separatistas vinculados ao imperialismo.
- (D) do avanço de disputas etnorreligiosas entre populações locais.

6 – Sufragistas em Chicago (EUA) em 1916



Disponível em cnnbrasil.com.br (Acesso em 15.05.2026)

Ao reivindicarem acesso aos mecanismos formais de participação pública, as sufragistas evidenciavam uma tensão estrutural das sociedades liberais modernas: a existência de princípios universais de igualdade coexistindo com práticas institucionais seletivas. A exclusão feminina revelava que os fundamentos jurídicos da representação política permaneciam condicionados por critérios sociais e culturais profundamente hierarquizados.

PATEMAN, Carole. O Contrato Sexual. Rio de Janeiro: Paz e Terra, 1993 (adaptado).

As mobilizações mencionadas no texto questionavam principalmente a incompatibilidade entre

- (A) mobilidade social e concentração de renda.
- (B) autonomia feminina e centralização burocrática.
- (C) pluralidade partidária e controle constitucional.
- (D) legitimidade representativa e restrição participativa.

7 – Os Estados Unidos concentram as principais empresas de tecnologia do mundo, como Apple, Amazon e Microsoft. Mas o "coração" dos produtos dessas e de muitas outras companhias, o chip, é produzido principalmente em um lugar bem longe dali: Taiwan. A maior companhia do setor em todo o mundo fica lá. Fundada em 1987, a Taiwan Semiconductor Manufacturing Company (TSMC) fornece componentes para clientes como a Apple, criadora do iPhone, e a Nvidia, que se tornou uma das empresas mais valiosas do mundo graças ao desenvolvimento de chips mais complexos, aqueles usados para inteligência artificial. O domínio de Taiwan causou até uma crise política com os EUA, que, por meio de sanções, "proibiram" o país de exportar a tecnologia para a China, alegando que os chineses querem desenvolver armas táticas de guerra.

Por que Taiwan é tão importante no mercado de chips e como uma interrupção na produção poderia afetar o mundo. Disponível em g1.globo.com (Acesso em 09.05.2026)

Principais empresas fornecedoras de microchips no mundo (Percentual no mercado)

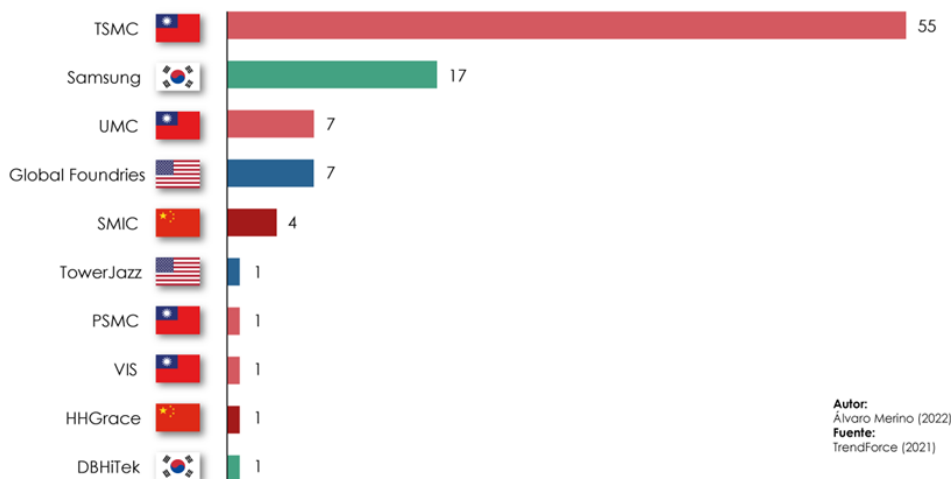


Gráfico disponível em elordenmundial.com (Acesso em 09.05.2026)

Na esfera das relações internacionais, a crise política mencionada no texto é intensificada porque a China

- (A) critica os Estados Unidos por reconhecer Taiwan como um Estado soberano.
- (B) admite a independência política da ilha, mas contesta sua autonomia econômica.
- (C) reivindica a incorporação da ilha por entendê-la como parte integrante de seu território.
- (D) propõe a transferência da administração política local para organismos multilaterais internacionais.

8 – O golpe de Estado de 11 de setembro de 1973, no Chile, foi precedido por um período de intensa polarização política e convulsão econômica e social. Os militares, comandados pelo general Augusto Pinochet, agiram para derrubar o presidente socialista Salvador Allende e o governo de esquerda da Unidade Popular. A classe média chilena e parte dos trabalhadores autônomos, como os caminhoneiros, se mobilizaram para derrubar o governo, saindo às ruas e organizando boicotes à distribuição de produtos básicos. Para isso, contaram com o apoio dos Estados Unidos e também da ditadura brasileira. Eleito pelo voto popular, em 1970, o governo de Allende prometia implantar um socialismo democrático, respeitando a constituição e garantindo a liberdade individual dos chilenos. O golpe militar chileno foi um dos mais violentos da América Latina, com prisões em massa, chacinas e torturas indiscriminadas ainda durante o processo golpista.



Disponível em memoriasdaditadura.org.br (Acesso em 15.05.2026)

Uma mudança implementada pelo regime chileno que o diferencia dos demais países sul-americanos no mesmo contexto é a

- (A) estatização dos setores estratégicos da economia nacional.
- (B) substituição do capital estrangeiro por investimentos nacionais.
- (C) ampliação do planejamento econômico conduzido pelo Estado.
- (D) adoção de políticas econômicas orientadas pelo neoliberalismo.

9 – A transformação do Rio de Janeiro de cidade colonial em grande metrópole se daria a partir de meados do século XIX, quando além de ser a capital político-administrativa do país, a cidade passa a desempenhar o papel de porto e capital econômica e financeira. É neste contexto que surgem numerosos bairros e a construção das primeiras ferrovias dão origem ao desenvolvimento de núcleos suburbanos em torno das estações, cujas centralidades progressivamente se emendam para constituir a extensa zona suburbana, hoje denominada de Zona Norte. Nas periferias desses núcleos, com menos infraestrutura viária, encontram-se casas isoladas, em meio a terrenos amplos. Acompanhando as ferrovias, a ocupação urbana vai se ampliando a partir do início do século XX, sobretudo com a expansão dos transportes rodoviários, que ganharam claro privilégio a partir da década de 1960.

IZAGA, Fabiana Generoso. Morfologia da favela na Zona Norte no Rio de Janeiro: a relação entre a urbanização formal e a forma de crescimento da informalidade. *Revista de Morfologia Urbana* (2023).

A interpretação do texto permite inferir que, na primeira metade do século XX, os bairros da Zona Norte do Rio de Janeiro passaram por processos de

- (A) segregação social e gentrificação
- (B) incremento populacional e conurbação
- (C) revitalização estrutural e esvaziamento central
- (D) deslocamentos compulsórios e urbanização sem planejamento

10 – O estabelecimento de um Estado judeu em terras com uma população predominantemente não judia foi realizado por meio do deslocamento forçado da maioria dos povos indígenas. Atualmente, quase 70% dos palestinos em todo o mundo foram deslocados à força pelo regime israelense ou são seus descendentes diretos. A ideia de “transferência” no pensamento sionista foi rigorosamente difundida por Nur Masalha em seu texto seminal “Expulsão dos Palestinos: o conceito de “transferência” no pensamento político sionista – 1882-1948” e está resumida nas palavras de Israel Zangwill, um dos primeiros pensadores sionistas que, em 1905, declarou: “Se quisermos dar um país a um povo sem país, é uma grande tolice permitir que ele seja o país de dois povos”. Yosef Weitz, ex-diretor do Departamento de Terras do Fundo Nacional Judaico, foi ainda mais explícito quando, em 1940, escreveu: “...deve ficar claro que não há espaço no país para os dois povos... a única solução é uma Terra de Israel, pelo menos uma Terra de Israel ocidental sem árabes. Não há espaço aqui para concessões... Não há outra maneira a não ser transferir os árabes daqui para os países vizinhos... Nenhuma aldeia deve ser deixada, nenhuma tribo [beduína].”

Disponível em monitordooriente.com (Acesso em 09.05.2026)

A permanência da ideia de “transferência” explicitada no texto procura se legitimar através de discursos:

- (A) semitistas.
- (B) cosmopolitas.
- (C) isolacionistas.
- (D) supremacistas.

11 – Em 1994, o brasileiro Milton Santos (1926-2001) foi laureado com o prêmio internacional Vautrin Lud, considerado o Nobel da geografia. Até hoje, ele é o único pesquisador latino-americano a obter tal reconhecimento. Negro e neto de um escravizado, o baiano de Brotas de Macaúbas nasceu há 100 anos — lembrados em 3 de maio deste ano — e se tornou figura fundamental no entendimento do Brasil e do mundo globalizado. Milton Santos se destacou por seus estudos a respeito da urbanização no Terceiro Mundo e pelas pesquisas a respeito da globalização. Ele também criou uma proposta teórica de regionalização do país batizada de "Quatro Brasis" (região amazônica, a região nordeste, a região centro-oeste e a região concentrada). "Essa divisão proposta por ele do Brasil mostra não só a base física, mas as regiões como palco de uma série de relações e conflitos, com suas diferenças não só nas geografias física e humana, mas na própria relação entre estados, elites e poder econômico, impactando nas pessoas que ali vivem", pontua o geólogo Marco Moraes, autor do livro Planeta Hostil.

"O negro e neto de escravizado que explicou os 'Quatro Brasis': quem foi Milton Santos, o maior geógrafo brasileiro". Disponível em [bbc.com](https://www.bbc.com) (Acesso em 09.05.2026)

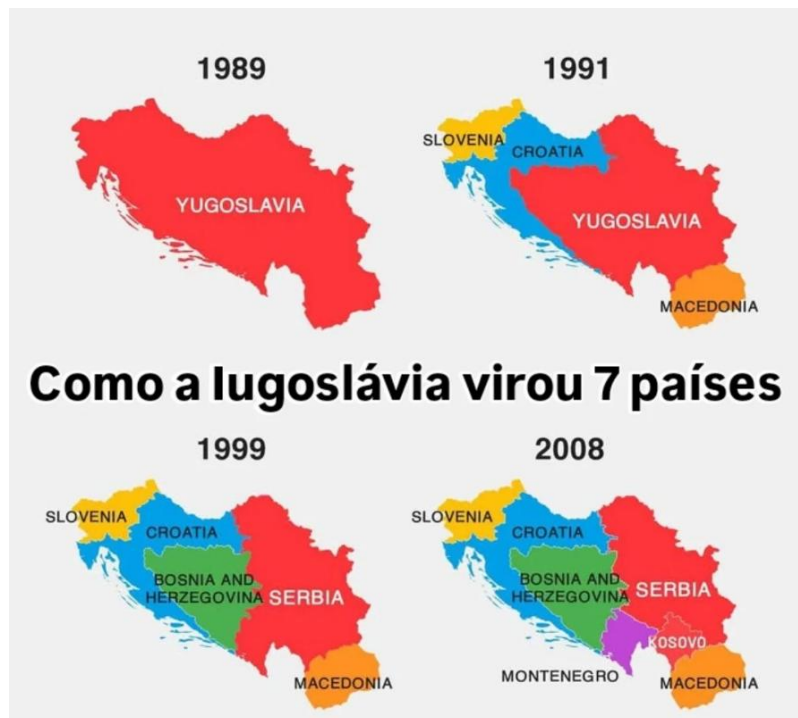


Mapa disponível em [wikipedia.org](https://www.wikipedia.org) (Acesso em 09.05.2026)

Na geografia, região é uma porção do espaço delimitada com base em características razoavelmente homogêneas ou critérios específicos, como aspectos naturais, econômicos, culturais ou políticos. Na regionalização proposta por Milton Santos, o autor utilizou como critério principal a

- (A) colonização desigual do espaço nacional.
- (B) distribuição espacial de aparatos técnicos.
- (C) delimitação territorial das desigualdades sociais.
- (D) organização regional das atividades econômicas.

12 – O fim da Guerra Fria provocou profundas transformações políticas no Leste Europeu e nos territórios vinculados à influência soviética. Em diversos países, a crise econômica, a perda de legitimidade dos governos centralizados e o avanço de movimentos identitários estimularam processos de fragmentação territorial. Na antiga Iugoslávia, essas tensões resultaram em conflitos internos e na separação de diferentes repúblicas, evidenciando a dificuldade de manutenção de estruturas federativas diante do fortalecimento de interesses locais e étnicos.



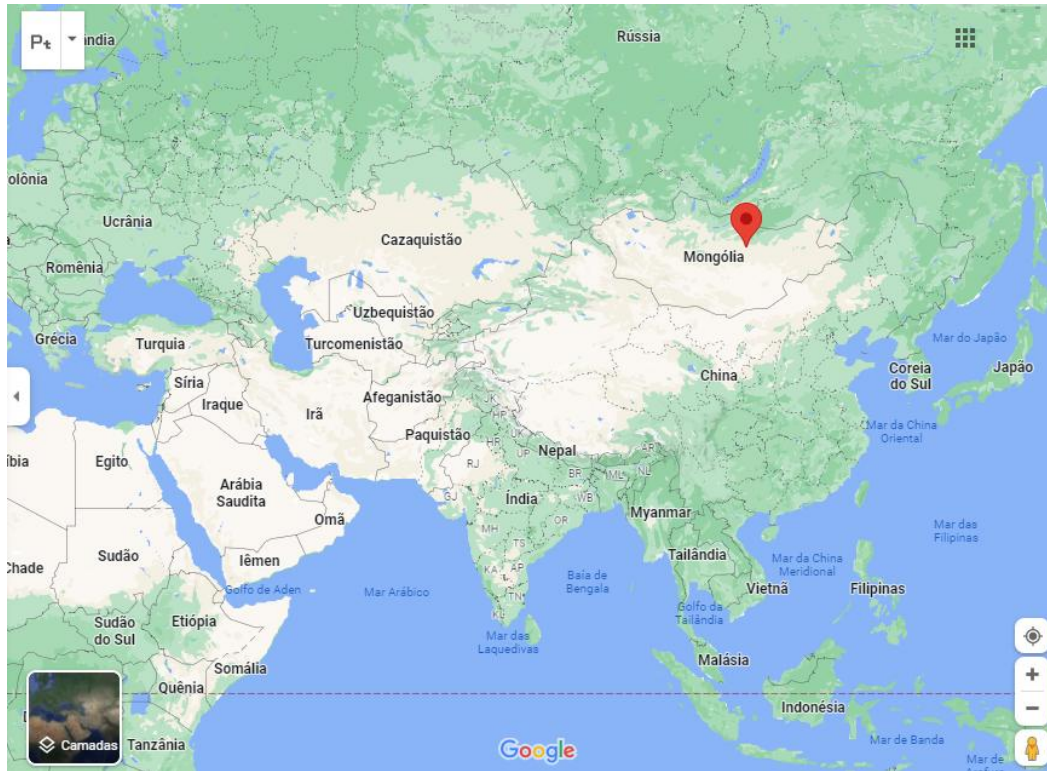
HOBSBAWM, Eric. Era dos extremos. São Paulo: Companhia das Letras.

O processo histórico representado no texto e no mapa esteve relacionado à

- (A) ampliação da integração política nos Bálcãs.
- (B) consolidação do socialismo no Leste Europeu.
- (C) estabilidade federativa após o fim da Guerra Fria.
- (D) perda de coesão estatal e fortalecimento de movimentos nacionalistas.



13 – Ulã Bator, na Mongólia, é a capital mais fria e mais poluída do planeta



Ulã Bator é a capital mais fria do planeta e também a mais poluída. Fica na Mongólia. A temperatura média anual é de 2,4 graus abaixo de zero e, nos meses de inverno, a temperatura fica em torno de 30 graus negativos. As casas não têm gás encanado e somente os prédios têm água quente encanada. Por isso, a maioria dos moradores se vê obrigada a queimar carvão, pneu, qualquer coisa para o corpo não congelar. E com tanta fumaça, durante o inverno Ulã Bator se torna a capital mais poluída do mundo. O simples ato de respirar se torna um imenso risco à saúde, principalmente para crianças e grávidas. Na primavera, o índice é de 23 abortos espontâneos por cada mil grávidas. Pesquisas comprovam que a poluição afeta a saúde de crianças e fetos.

Disponível em g1.globo.com (Acesso em 14.05.2026)

Dois fatores climáticos que se conjugam para definir o clima de Ulã Bator são

- (A) altitude e radiação.
- (B) relevo e maritimidade.
- (C) latitude e continentalidade.
- (D) pressão atmosférica e longitude.

14 – Durante o governo de Juscelino Kubitschek, o Estado brasileiro intensificou investimentos em infraestrutura de transportes, especialmente na abertura e pavimentação de rodovias. Essa política articulava-se a um projeto mais amplo de industrialização acelerada, baseado na ampliação do mercado interno e na atração de empresas estrangeiras interessadas na produção de bens duráveis. Nesse contexto, o setor automobilístico assumiu posição estratégica no planejamento econômico, tornando-se símbolo do projeto desenvolvimentista do período.

BENEVIDES, Maria Victoria. O governo Kubitschek: desenvolvimento econômico e estabilidade política. Rio de Janeiro: Paz e Terra.

A política de transportes descrita no texto relaciona-se diretamente à

- (A) redução da presença industrial estrangeira.
- (B) valorização articulada de rodovias e ferrovias.
- (C) expansão produtiva voltada ao mercado consumidor externo.
- (D) consolidação de modelo industrial associado à substituição de importações.