

PROJETO ENEM 2023

Compilação ENEM 5 - POPULAÇÃO

O objetivo das compilações é testar conhecimentos sobre os temas mais recorrentes e importantes da prova. Seleccionamos questões que exigem raciocínios cruciais para uma boa resolução do exame. Os gabaritos serão liberados em nosso site:

www.chadehumanas.com.br

Coletânea elaborada pelo Prof. Victor Mauricio



PROJETO ENEM 2023

CHÁ DE HUMANAS

4 aulas
com os melhores
bizus e questões
inéditas.

Inscreva-se agora!
www.chadehumanas.com.br

 **YouTube**

The graphic features two men standing side-by-side. The man on the left is wearing a black t-shirt with a yellow graphic and the word 'Sabbath' written vertically. The man on the right is wearing a green t-shirt with a yellow floral pattern. The background is white with a yellow header and a red call-to-action bar.

As informações sobre o projeto encontram-se em nosso site. [CLIQUE AQUI](http://www.chadehumanas.com.br)

1. (Enem PPL 2020) A pirâmide de formato triangular da década de 1970 foi dando lugar a uma pirâmide mais retangular de base mais estreita e topo mais largo. Em 1991, a população de 0 a 14 anos correspondia a 34,7% da população brasileira, tendo passado para 24,1% em 2010. A população em idade ativa, entre 15 e 59 anos, por sua vez, passou de 58,0% a 65,1% no mesmo período.

IBGE. *Brasil em números*. Rio de Janeiro: IBGE, 2014.

As alterações no perfil demográfico brasileiro, descritas no texto, trouxeram como consequência socioeconômica o(a)

- a) aumento da mortalidade infantil.
- b) crescimento das desigualdades regionais.
- c) redução dos gastos na educação superior.
- d) restrição no atendimento público hospitalar.
- e) expansão na demanda por ocupações laborais.

2. (Enem PPL 2019) Uma ação tomada por alguns países que pode funcionar é proporcionar bolsas de estudo e empréstimos para aqueles que querem estudar em centros universitários fora do país, com a contrapartida de que, após a conclusão da faculdade, essas pessoas possam pagar ao governo voltando e trabalhando no país de origem. Desburocratizar o exercício de certas profissões e incentivar centros de excelência também pode ajudar.

MALI, T. Disponível em: www.ufjf.br. Acesso em: 10 out. 2015 (adaptado).

As medidas governamentais descritas buscam conter a ocorrência do seguinte processo demográfico:

- a) Transferência de refugiados.
- b) Deslocamento sazonal.
- c) Movimento pendular.
- d) Fuga de cérebros.
- e) Fluxo de retorno.

3. (Enem 2019) O bônus demográfico é caracterizado pelo período em que, por causa da redução do número de filhos por mulher, a estrutura populacional fica favorável ao crescimento econômico. Isso acontece porque há proporcionalmente menos crianças na população, e o percentual de idosos ainda não é alto.

GOIS, A. *O Globo*, 5 abr. 2015 (adaptado).

A ação estatal que contribui para o aproveitamento do bônus demográfico é o estímulo à

- a) atração de imigrantes.
- b) elevação da carga tributária.
- c) qualificação da mão de obra.
- d) admissão de exilados políticos.
- e) concessão de aposentadorias.

4. (Enem PPL 2019)

O meu pai era paulista
Meu avô, pernambucano
O meu bisavô, mineiro
Meu tataravô, baiano
Vou na estrada há muitos anos
Sou um artista brasileiro

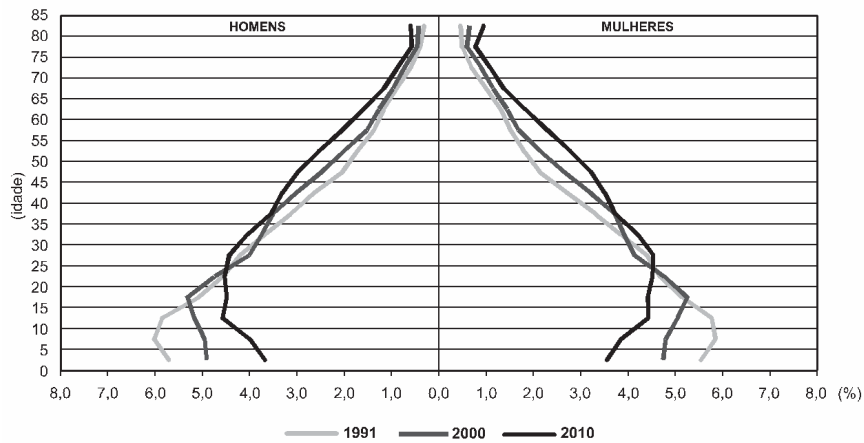
CHICO BUARQUE. *Paratodos*. 1993. Disponível em: www.chicobuarque.com.br. Acesso em: 29 jun. 2015 (fragmento).

A característica familiar descrita deriva do seguinte aspecto demográfico:

- a) Migração interna.
- b) População relativa.
- c) Expectativa de vida.
- d) Taxa de mortalidade.
- e) Índice de fecundidade.

5. (Enem PPL 2017)

Composição da população residente total, por sexo e grupos de idade
Brasil - 1991/2010

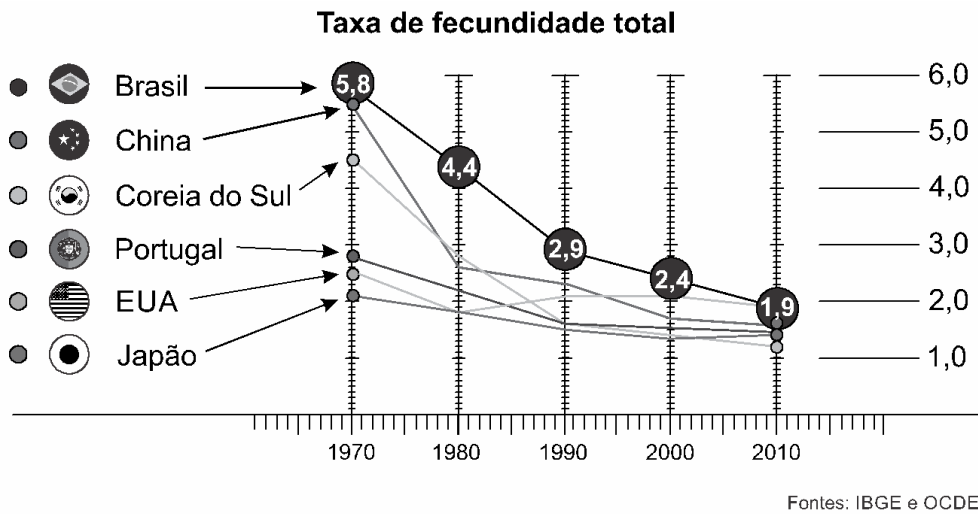


IBGE. Censo demográfico 2010. Rio de Janeiro: IBGE, 2012 (adaptado).

A evolução na estrutura etária apresentada influenciou o Estado a formular ações para

- a) garantir a igualdade de gênero.
- b) priorizar a construção de escolas.
- c) reestruturar o sistema previdenciário.
- d) investir no controle da natalidade.
- e) fiscalizar a entrada de imigrantes.

6. (Enem 2016) O número de filhos por casal diminuiu rapidamente. Para a maioria dos economistas, isso representa um alerta para o futuro.



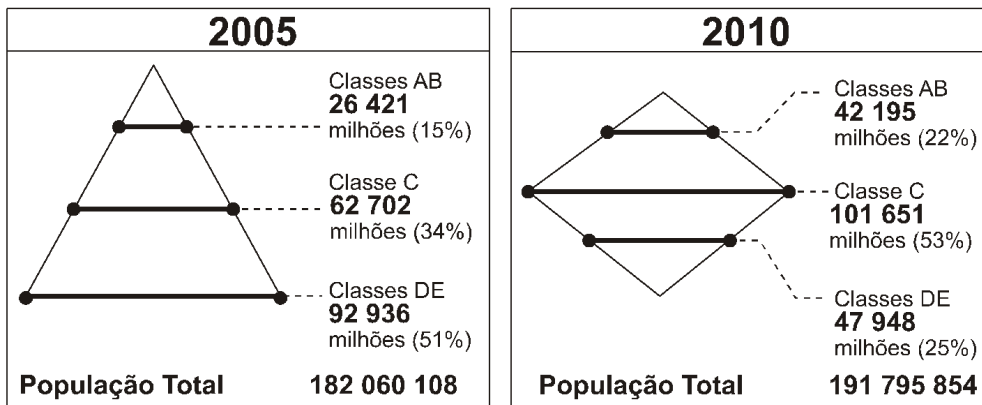
Disponível em: <http://epoca.globo.com>. Acesso em: 20 out. 2015 (adaptado)

Uma consequência socioeconômica para os países que vivenciam o fenômeno demográfico ilustrado é a diminuição da

- oferta de mão de obra nacional.
- média de expectativa de vida.
- disponibilidade de serviços de saúde.
- despesa de natureza previdenciária.
- imigração de trabalhadores qualificados.

7. (Enem PPL 2013)

Classes sociais no Brasil (2005-2010)



A mudança na distribuição das classes de 2005 a 2010 implicou uma expressiva alteração no formato do primeiro para o segundo gráfico. Um processo associado a essa mudança está indicado no(a)

- expansão do mercado interno.
- concentração da renda nacional.
- persistência da crise internacional.
- crescimento demográfico acelerado.
- fracasso das políticas redistributivas.

8. (Enem 2011) As migrações transnacionais, intensificadas e generalizadas nas últimas décadas do século XX, expressam aspectos particularmente importantes da problemática racial, visto como dilema também mundial. Deslocam-se indivíduos, famílias e coletividades para lugares próximos e distantes, envolvendo mudanças mais ou menos drásticas nas condições de vida e trabalho, em padrões e valores socioculturais. Deslocam-se para sociedades semelhantes ou radicalmente distintas, algumas vezes compreendendo culturas ou mesmo civilizações totalmente diversas.

IANNI, O. *A era do globalismo*. Rio de Janeiro: Civilização Brasileira, 1996.

A mobilidade populacional da segunda metade do século XX teve um papel importante na formação social e econômica de diversos estados nacionais. Uma razão para os movimentos migratórios nas últimas décadas e uma política migratória atual dos países desenvolvidos são

- a) a busca de oportunidades de trabalho e o aumento de barreiras contra a imigração.
- b) a necessidade de qualificação profissional e a abertura das fronteiras para os imigrantes.
- c) o desenvolvimento de projetos de pesquisa e o acatamento dos bens dos imigrantes.
- d) a expansão da fronteira agrícola e a expulsão dos imigrantes qualificados.
- e) a fuga decorrente de conflitos políticos e o fortalecimento de políticas sociais.

9. (Enem 2022) **Brasileiros levam mais tempo de casa para o trabalho**

Pesquisa do IBGE aponta que a situação é mais grave no Sudeste: 13% das pessoas levam mais de uma hora para chegar ao trabalho. Nas regiões metropolitanas de São Paulo e do Rio, o IBGE registrou os maiores percentuais de trabalhadores que levam mais de uma hora no trajeto até o emprego. Quem vê o Marcelo chegar ao trabalho nem imagina a maratona que ele enfrenta todos os dias antes das 5h. "Acordo 4h 30, saio de casa 5h, pego trem 5h 20, chego na Central umas 6h 50, pego ônibus e chego no trabalho mais ou menos 7h 10", conta. Segundo especialista, são os mais pobres os que moram mais longe do emprego.

Disponível em: www.portaldotransito.com.br. Acesso em: 23 nov. 2021 (adaptado)

A pesquisa desenvolvida retrata a seguinte dinâmica populacional:

- a) Fluxo de retorno.
- b) Migração interna.
- c) Mudança sazonal.
- d) Movimento pendular.
- e) Deslocamento forçado.

10. (Enem PPL 2021) Existe um processo cada vez maior de globalização da mão de obra especializada. Isto é, não só da mão de obra especializadíssima, mas da mão de obra que vem sendo excepcionalmente requisitada no mundo inteiro e, portanto, não seguirá as regras normais de leis de imigração, do salário e das condições de trabalho.

CASTELLS, M. *A sociedade em rede*. São Paulo: Paz e Terra, 1999.

De acordo com o texto, na globalização, o tratamento ao migrante laboral condiciona-se pelo(a)

- a) origem nacional.
- b) padrão financeiro.
- c) pertencimento étnico.
- d) desemprego estrutural.
- e) qualificação profissional.

11. (Enem digital 2020)

A redução do valor da aposentadoria se deve ao fator previdenciário, mecanismo utilizado pelo INSS para tentar adiar a aposentadoria dos trabalhadores mais jovens, penalizando quem se aposenta mais cedo, já que esse segurado, teoricamente, vai receber o benefício por mais tempo.

RESENDE, T. Disponível em: <http://ieprev.com.br>. Acesso em: 25 out. 2015 (adaptado).

Políticas previdenciárias como a apresentada no texto têm sido justificadas com base na dinâmica populacional de aumento da

- a) fuga de cérebros.
- b) taxa de natalidade.
- c) expectativa de vida.
- d) proporção de adultos.
- e) imigração de refugiados.

12. (Enem 2016)

Texto I

Mais de 50 mil refugiados entraram no território húngaro apenas no primeiro semestre de 2015. Budapeste lançou os “trabalhos preparatórios” para a construção de um muro de quatro metros de altura e 175 km ao longo de sua fronteira com a Sérvia, informou o ministro húngaro das Relações Exteriores. “Uma resposta comum da União Europeia a este desafio da imigração é muito demorada, e a Hungria não pode esperar. Temos que agir”, justificou o ministro.

Disponível em: www.portugues.rfi.fr. Acesso em: 19 jun. 2015 (adaptado).

Texto II

O Alto Comissariado das Nações Unidas para Refugiados (ACNUR) critica as manifestações de xenofobia adotadas pelo governo da Hungria. O país foi invadido por cartazes nos quais o chefe do executivo insta os imigrantes a respeitarem as leis e a não “roubarem” os empregos dos húngaros. Para o ACNUR, a medida é surpreendente, pois a xenofobia costuma ser instigada por pequenos grupos radicais e não pelo próprio governo do país.

Disponível em: <http://pt.euronews.com>. Acesso em: 19 jun. 2015 (adaptado).

O posicionamento governamental citado nos textos é criticado pelo ACNUR por ser considerado um caminho para o(a)

- a) alteração do regime político.
- b) fragilização da supremacia nacional.
- c) expansão dos domínios geográficos.
- d) cerceamento da liberdade de expressão.
- e) fortalecimento das práticas de discriminação.